

NAAM: _____

Hoeveel kersies is op die koek?



LEES, SPEL EN WISKUNDE

REMEDIERING

MARLENE VAN DER BERG

WWW.LEERAFRIKAANS123.CO.ZA

info@leerafrikaans123.co.za

Koek eet in die nag

My ma slaap en my pa slaap.

Die kat slaap en die hond slaap....

Net ek slaap nie!

My maag is leeg! Ek soek kos!

Ek tip-tip in die gang af.

Ek weet daar is koek in die kas.

Ek weet ek mag dit nie eet nie,

maar ma sal mos nie weet nie!

Sy slaap mos! Ek sit n stoel

teen die kas en klim op.

Boef! Val die stoel om.

Doef! Val ek op die vloer.

Ma kom kyk wat gaan aan.

“En die stoel, Pieter? En die

koek om jou mond?”

“Ek weet nie, Ma!” sê ek.

“Dalk loop ek in my slaap.”

Koek	eet	in
die	nag	slaap
hond	kat	Ek
nie	ma	pa
Net	kos	soek
maag	is	leeg
weet	daar	kas
mag	dit	maar
sal	mos	Sy
sit	`n	stoel
teen	wat	klim
op	val	Boef
Doef	vloer	kyk
wat	gaan	aan
En	Pieter	om
jou	mond	sê
Dalk	loop	my

My ma slaap en my pa slaap.

Die kat slaap en die hond slaap...
Net ek slaap nie!

My maag is leeg! Ek soek kos!

Ek weet daar is koek in die kas!

Ek weet ek mag dit nie eet nie,
maar ma sal mos nie weet nie.

Sy slaap mos!

Ek sit `n stoel teen die kas en klim
op.

Boef! Val die stoel om.

Doef! Val ek op die vloer.

Ma kom kyk wat gaan aan.

“En die stoel, Pieter? En die koek om jou mond?”


“Ek weet nie ma!” sê ek.

“Dalk loop ek in my slaap.”

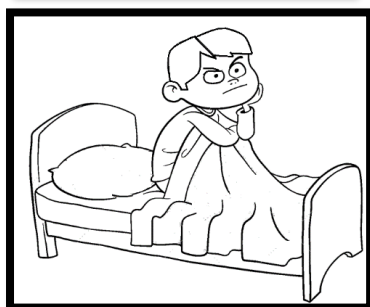
Watter sin pas by elke prent?




Net ek slaap nie.



My ma slaap en my pa slaap.



Ek weet daar is `n koek in die kas.



Die kat slaap en die hond slaap.

Oefen die volgende woorde.

	Watter klank hoor jy in die middel?	Watter klank hoor jy eerste?	Watter klank hoor jy aan die einde?	Skryf die word.
koek	-oe-	k	k	koek
slaap				
vloer				
koek				
stoel				
maag				
leeg				
weet				
klim				
dalk				
mond				
teen				

Wiskunde

1) Tel die goggas en skryf die getal in die blokkie.

2. Skryf die getal wat na of voor elkeen van hierdie getalle kom.

a)

3. Watter getalle kom tussen.

a)

4. Vul die ontbrekende getalle in.

0	1	2		4	5			8	9
10	11		13		15	16	17		19
20		22		24	25	26	27	28	29
30	31		33	34			37		
40		42	43		45	46		48	49
50			53	54			57	58	59

5. Skryf die volgende getalle in volgorde van die kleinste tot die grootste.

a) 16 21 14 5

b) 22 25 4 16

6. Ontbind twee-syfergetalle bv. $18 = 10 + 8$

a) 14 = ----- + -----

b) 26 = ----- + -----

c) 15 = ----- + -----

d) 12 = ----- + -----

7. Lees en skryf van getalsimbole.

Byvoorbeeld: 15 vyftien

• 24 -----

• 16 -----

Byvoorbeeld: nege

• vyf-en-twintig

• sestien

8. Voltooi elke sin om die getalle te vergelyk.

a) 5 meer as 3 = -----

b) 2 meer as 12 = -----

c) 3 meer as 8 = -----

Plus 10

Minus 10

$15 + 10 = \underline{\quad\quad}$

$24 - 10 = \underline{\quad\quad}$

$12 + 10 = \underline{\quad\quad}$

$25 - 10 = \underline{\quad\quad}$

9. Probleemoplossing

a) Tom het 3 honde. Hoeveel bene het die honde altesaam?

Berekening

Getalsin

b) Susan het 10 kleinkoekies. Sy deel dit gelykop tussen haar en 'n maatjie. Hoeveel koekies kry elkeen?

Berekening

Getalsin

10. Kleur die volgende in: sirkels geel, driehoeke groen, vierkante rooi en reghoeke blou.

